

گراد

برگ آزمون ریاضی

پایه ی دوم ابتدایی ۲



۱۰
۹
۸
۷
۶
۵
۴
۳
۲
۱

خلاصه ای از تمام فصل های کتاب



برگ آزمون ریاضی گارد پایه ی دوم ابتدایی



مدیر پروژه و ناظر علمی:

سمیرا فتحیه (کارشناس ارشد ریاضی محض)

مؤلف: ملیحه رشیدی



[انتشارات گارد]



فهرست

- برگ آزمون ۱ (عدد و شمارش، دسته های ده تایی و یکی) ۵
- برگ آزمون ۲ (حل مسئله و رسم شکل، جمع و تفریق) ۷
- برگ آزمون ۳ (شمارش چند تا چند تا، مرور فصل ۱) ۹
- برگ آزمون ۴ (جمع و تفریق ده تایی و اساسی) ۱۱
- برگ آزمون ۵ (حل مسئله و الگو سازی، جمع و تفریق دو عدد دو رقمی) ۱۳
- برگ آزمون ۶ (جمع و تفریق دو عدد، مرور فصل ۲) ۱۵
- برگ آزمون فصل اول و دوم کتاب درسی ۱۷
- برگ آزمون ۷ (شکل های هندسی، روابط بین شکل ها) ۱۹
- برگ آزمون ۸ (حل مسئله و الگویابی، تقارن دو قسمتی) ۲۱
- برگ آزمون ۹ (تقارن چهار قسمتی، مرور فصل ۳) ۲۳
- برگ آزمون ۱۰ (معرفی پول و عددهای سه رقمی) ۲۵
- برگ آزمون ۱۱ (حل مسئله، عددهای سه رقمی تقریبی) ۲۷
- برگ آزمون ۱۲ (آمادگی برای جمع و تفریق، مرور فصل ۴) ۲۹
- برگ آزمون فصل سوم و چهارم کتاب درسی ۳۱
- برگ آزمون ۱۳ (اندازه گیری طول و دقیق تر) ۳۳
- برگ آزمون ۱۴ (حل مسئله و حدس و آزمایش، واحد سانتی متر) ۳۵
- برگ آزمون ۱۵ (واحد میلی متر، مرور فصل ۵) ۳۷
- برگ آزمون ۱۶ (مقایسه ی عددها، جمع و تفریق عددهای سه رقمی) ۳۹
- برگ آزمون ۱۷ (حل مسئله، جمع در جدول ارزش مکانی) ۴۱
- برگ آزمون ۱۸ (تفریق در جدول ارزش مکانی، مرور فصل ۶) ۴۳
- برگ آزمون فصل پنجم و ششم کتاب درسی ۴۵
- برگ آزمون ۱۹ (قسمتی از یک واحد، نمایش کسر) ۴۷
- برگ آزمون ۲۰ (حل مسئله، مفهوم احتمال) ۴۹
- برگ آزمون ۲۱ (احتمال و کسر، مرور فصل ۷) ۵۱
- برگ آزمون ۲۲ (سرشماری، نمودار ستونی) ۵۳
- برگ آزمون ۲۳ (حل مسئله، نمودار تصویری) ۵۵
- برگ آزمون ۲۴ (انتخاب نمودار، مرور فصل ۸) ۵۷
- برگ آزمون فصل هفتم و هشتم کتاب درسی ۵۹



مقدمه

فعالیت های تکمیلی و فوق برنامه از جمله عوامل مؤثر در یادگیری ریاضی محسوب می شود. با استفاده ی درست و هدفمند از این برنامه می توان دانش آموزان را در رسیدن به آموزشی فعال و پویا یاری رساند. لذا با طراحی و تدوین برگ آزمون ریاضی گراد سعی شده است فرصت فکر کردن و اندیشیدن به دانش آموز، تقویت حل مسئله و تثبیت آموزش و یادگیری را سریع تر نماییم.

در این کتاب ۲۴ نمونه برگ آزمون و ۴ نمونه ارزشیابی که حاوی تمرین هایی منطبق بر کتاب درسی است گنجانده شده است و سعی بر آن شده که تمامی مطالب مهم و کلیدی این بخش ها را شامل شود.

امید است کتاب حاضر بتواند گامی مؤثر در جهت رشد آموزش و یادگیری دانش آموزان عزیز بردارد.

در پایان از تمامی معلمان و اولیای گرامی خواهشمندیم نظر ها و دیدگاه های ارزشمند خود را از طریق وب سایت انتشارات گراد به آدرس www.gradpress.ir به اطلاع ما برسانید.

هیئت علمی گروه آموزشی گراد



برگ آزمون ریاضی گراد پایه ک دوم ابتدایی


عدد و شمارش دسته های ده تایی و یکی

تاریخ: / /

کلاس:

آموزگار:

نام و نام خانودگی:



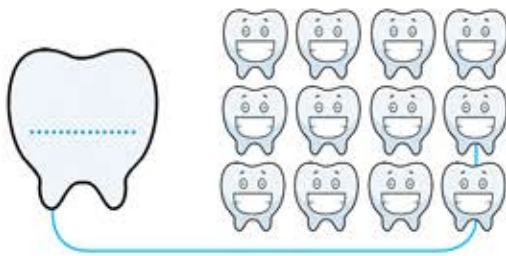
تعداد گل های هم رنگ را بشمارید و به عدد و حروف بنویسید.



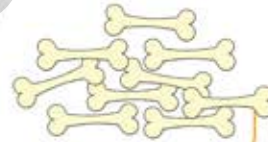
به حروف

به عدد

از چه راهی برای شمارش گل ها استفاده کردید؟



بشمارید و عدد مناسب را بنویسید.



ساعت های زیر را کامل کنید.



ساعت ۶



ساعت ۲



ساعت ۸



ساعت

با توجه به جدول ارزش مکانی شکل بکشید. عددهای مربوط به هر جدول را به عدد و حروف بنویسید.

--

به حروف

به عدد

یکی ده تایی

۱ ۳

--



به حروف

به عدد

یکی ده تایی

۰ ۷





کامل کنید.





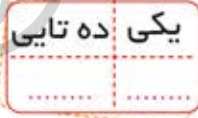
با سه کارت روبه رو چند عدد دو رقمی می توانید بسازید؟
عدد ها را بنویسید.



حداکثر بزن من چه عددی هستم.
الف: عددی دو رقمی هستم که رقم یکانم صفر و رقم دهگانم ۲ تا بیشتر از رقم یکانم است.



ب: عددی دو رقمی هستم که رقم دهگانم ۲ تا بیشتر از ۵ و رقم یکانم یکی کمتر از رقم دهگانم است.



برای شکل های زیر جدول های ارزش مکانی را کامل کنید.



نوشتن عددها را ادامه دهید.



..... - - - شصت و هشت - ۶۷ - شصت و شش - ۶۵

..... - - - ۳۹ - - ۴۲ - ۴۳





نام و نام خانودگی: آموزگار: کلاس: تاریخ: / /



در قفسه ی کتاب ثمین کوچولو، ۳۸ کتاب وجود دارد. او ۱۰ تا از کتاب های خود را به کتاب خانه ی مدرسه اش هدیه داد. حالا ثمین چند تا کتاب در قفسه ی خود دارد؟



با حدس زدن مشخص کنید در کدام قسمت تعداد گوسفند ها بیشتر است؟



شکل ها را بشمارید. آیا حدس شما درست بود؟

مهدی در واگن شماره ی ۹ قطار است و ماهان ۵ واگن جلوتر از او قرار دارد. شماره ی واگن ماهان چند است؟



تیم فوتبال امید در بازی اول خود ۶ گل به حریف خود زده است. اگر آن ها در بازی دوم ۷ گل به ثمر رسانده باشند. در مجموع چند گل زده اند؟

الگوی متقارن زیر را کامل کنید.



حاصل جمع و تفریق های زیر را با استفاده از محور به دست آورید.



$$7 + 3 + 2 = \dots\dots$$



$$14 - 3 - 5 = \dots\dots$$



$$12 - 7 + 3 = \dots\dots$$



حاصل جمع ها را به دست آورید.



$$5 + 2 + 3 + 5 + 10 = \dots\dots$$

$$20 + 2 + 3 + 4 + 10 + 1 = \dots\dots$$

$$10 + 5 + 20 + 4 = \dots\dots$$

$$10 + 30 + 8 + 2 + 5 = \dots\dots$$

ساعت از چند گذشته است؟



.....



.....



.....

ساعت به چند مانده است؟



.....



.....



.....

حاصل جمع زیر را با استفاده از 3 مدادرنگی مختلف به دست آورید.



--	--	--	--

$$\dots\dots + \dots\dots + \dots\dots = 15$$

نام و نام خانودگی: آموزگار: کلاس: تاریخ: / /

الگوهای عددی زیر را کامل کنید.



۲, ۷, , , , , ,

۱۱, ۱۵, , , , , ,

رو به عقب بشمارید و الگو را کامل کنید.




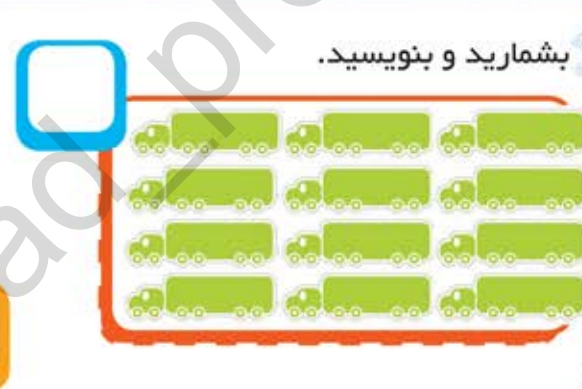
۴, ۹, ۱۴, ۱۹, ۲۴, ۲۹, ۳۴, ۳۹, ۴۴, ۴۹, ۵۴, ۵۹, ۶۴, ۶۹, ۷۴, ۷۹, ۸۴, ۸۹, ۹۴, ۹۹

۳۲, ۳۷, ۴۲, ۴۷, ۵۲, ۵۷, ۶۲, ۶۷, ۷۲, ۷۷, ۸۲, ۸۷, ۹۲, ۹۷

۳- ۳- ۵- ۵-

بشمارید و بنویسید.



گل‌ها را به این صورت رنگ کنید. ۵ گل قرمز است. تعداد گل‌های زرد ۷ عدد بیشتر از گل‌های قرمز است. تعداد گل‌های صورتی ۳ عدد کمتر از گل‌های زرد است.



چند گل بدون رنگ باقی مانده است؟



ریحانه یک دسته ی ده تایی شکلات دارد. مادرش ۲ دسته ی ده تایی و پدرش ۵ تا یکی به او می دهد. حالا ریحانه چقدر شکلات دارد؟



یکان	دهگان
.....

با رقم های ۳ و ۱ و ۰ عدد های دو رقمی بنویسید.



.....

.....

حالا آن ها را از کمتر به بیشتر بنویسید.

در پارکینگ خانه ی ما ۱۵ ماشین پارک بودند. ۶ ماشین از پارکینگ بیرون رفتند. حالا چند ماشین در پارکینگ است؟



با توجه به راهنما رنگ آمیزی کنید.

